

التاريخ:	 وزارة التعليم Ministry of Education	المملكة العربية السعودية
المادة: العلوم		وزارة التعليم
الصف: الثاني الابتدائي		الابتدائية الأربعة الإدارة العامة للتعليم بمنطقة المدرسة/.....
اسم الطالب/ة..... الفصل/.....		

تقويم ختامي لمهارات علوم الصف الثاني – (الفصل الدراسي الثاني) عام ١٤٤٤ هـ

السؤال الأول:

* من خلال الصور التالية نحدد أشكال اليابسة:



.....



.....



.....



.....

السؤال الثاني:

* نصل بين المفردة والعبارة المناسبة لها

أجزاء صغيرة من اليابسة محاطة بالماء من جميع الاتجاهات

قارة

الأجزاء الكبيرة من اليابسة محاطة بالمحيطات

جزيرة

أجزاء غير حية تتكون منها الصخور

الصخور

أشياء غير حية موجودة في الأرض

المعادن

السؤال الثالث:

* أجب عما يأتي بصح أو خطأ:

(.....)

١_ من مصادر الماء العذب الأبار

(.....)

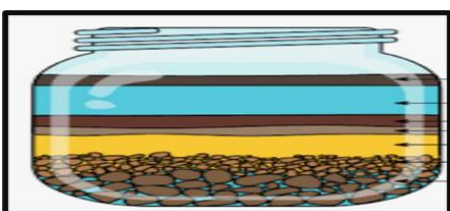
٢_ تختلف التربة في لونها وملمسها

(.....)

٣_ الماء والهواء والصخور والنباتات كلها موارد طبيعية

(.....)

٤_ نظامنا الشمسي فيه عشرة كواكب



* مما تتكون التربة؟

السؤال الرابع:

.....٢_

.....١_

يتبع
↓

السؤال الخامس: نصل بين كل صورة والعبارة المناسبة:



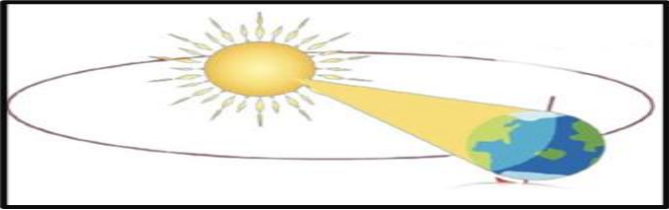
تربة زراعية (سطحية) فيها كثير من الدبال



تربة طينية





تربة رملية



* ماذا ينتج عن دوران الأرض حول الشمس؟

* نكتب تحت كل صورة اسم الفصول الأربعة:



السؤال السادس: مما يتكون نظامنا الشمسي؟

..... ١

..... ٢

* نذكر بعض أطوار القمر التي تظهر خلال الشهر:

.....

* نرتب الكواكب التالية من ١ ، ٤ حسب قربها من الشمس:

الزهرة

عطارد


المريخ

الأرض



بالتوفيق يا صغاري

سكره الشمري

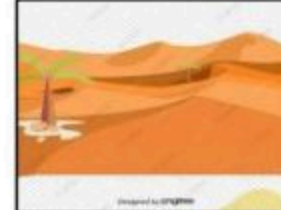



التاريخ:	 وزارة التعليم Ministry of Education	المملكة العربية السعودية
المادة: العلوم		وزارة التعليم
الصف: الثاني الابتدائي		الابتدائية الأربعة الإدارة العامة للتعليم بمنطقة المدرسة/.....
اسم الطالب/ة..... الفصل/.....		

تقويم ختامي لمهارات علوم الصف الثاني – (الفصل الدراسي الثاني) عام ١٤٤٤ هـ

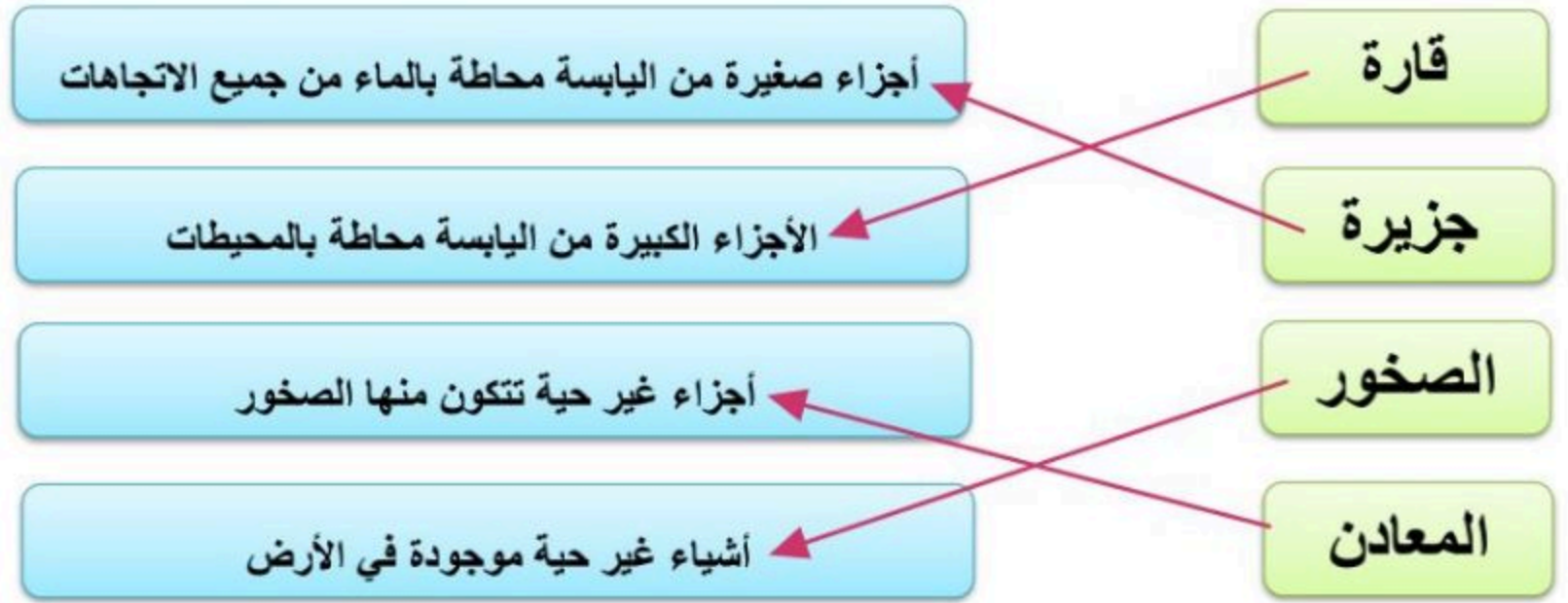
السؤال الأول:

* من خلال الصور التالية نحدد أشكال اليابسة:



السؤال الثاني:

* نصل بين المفردة والعبارة المناسبة لها



السؤال الثالث:

* أجب عما يأتي بصح أو خطأ:

- (.....) ✓
- (.....) ✓
- (.....) ✓
- (.....) ✗

١_ من مصادر الماء العذب الآبار

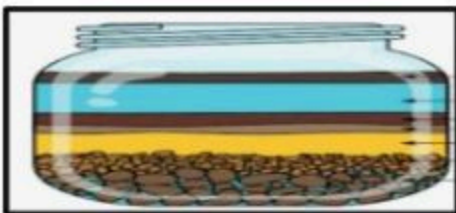
٢_ تختلف التربة في لونها وملمسها

٣_ الماء والهواء والصخور والنباتات كلها موارد طبيعية

٤_ نظامنا الشمسي فيه عشرة كواكب

السؤال الرابع:

* مما تتكون التربة؟




١_ صخور ومعادن

٢_ بقايا مخلوقات ميتة

يتبع
↓


السؤال الخامس: نصل بين كل صورة والعبارة المناسبة:



تربة زراعية (سطحية) فيها كثير من الدبال

تربة طينية

تربة رملية



* ماذا ينتج عن دوران الأرض حول الشمس؟

الفصول الأربعة

* نكتب تحت كل صورة اسم الفصول الأربعة:



ربيع



خريف



صيف



شتاء



السؤال السادس: مما يتكون نظامنا الشمسي؟

الشمس

الكواكب

* نذكر بعض أطوار القمر التي تظهر خلال الشهر:

التربيع

البدر

الهلال

* نرتب الكواكب التالية من ١ ، ٤ حسب قربها من الشمس:

الزهرة

٢

عطارد

١

المريخ

٤

الأرض

٣



بالتوفيق يا صغاري

سكره الشمري

