

الصف: رابع ابتدائي
اليوم:
التاريخ: / / ١٤٤٤ هـ
الزمن: ساعة ونصف فقط



المملكة العربية السعودية
وزارة التعليم
إدارة تعليم منطقة تبوك

اختبار نهاية الفصل الدراسي الثاني (الدور الأول)

مادة **العلوم** للصف الرابع ابتدائي

للعام الدراسي ١٤٤٤ هـ

اسم الطالبة :
رقم الجلوس :

رقم السؤال	الدرجة رقما	الدرجة كتابة	المصححة	المراجعة	المدققة
السؤال الأول					
السؤال الثاني					
السؤال الثالث					

درجة الاختبار النهائية : فقط لا غير من ٤٠ درجة



اعمل بجد في صمت .. ودع النجاح يحدث ضجيجاً

السؤال الأول:

أ- اختاري الإجابة الصحيحة في كلاً مما يلي:

١- درجة حرارة جسم الانسان الطبيعية هي:							
أ	٣٩	ب	٣٧	ج	١٧	د	٢٩
٢- المصدر الرئيسي للطاقة في اجسامنا:							
أ	الاملاح المعدنية	ب	الفيتامينات	ج	البروتينات	د	الكربوهيدرات
٣- من الخصائص التي تساعدنا على التعرف على المعادن:							
أ	الشكل	ب	الوزن	ج	الحجم	د	البريق واللمعان
٤- قدرة الجسم على التصدي لمسببات الامراض تسمى....							
أ	الفيروسات	ب	المناعة	ج	المرض	د	العدوى
٥- معظم المياه المالحة على سطح الأرض توجد في:							
أ	الانهار	ب	البرك	ج	الجليديات	د	المحيطات
٦- الخلايا التي تهاجم مسببات المرض هي:							
أ	خلايا الدم الحمراء	ب	خلايا الدم البيضاء	ج	الصفائح الدموية	د	الخلايا العصبية
٧- المشروب الذي يمد الجسم بالكالسيوم لتقوية العظام هو:							
أ	القهوة	ب	الشاي	ج	الحليب	د	مشروب غازي
٨- يستغرق حدوثها ٢٤ ساعة :							
أ	دوران الأرض حول الشمس	ب	دوران القمر حول الارض	ج	دوران الأرض حول محورها	د	دوران القمر حول نفسه
٩- تعد الكلاب والفئران والطيور والبعوض نواقل:							
أ	صناعية	ب	طبيعية	ج	حيوية	د	لا حيوية
١٠- أكبر الكواكب في المجموعة الشمسية:							
أ	المريخ	ب	المشتري	ج	زحل	د	عطارد

السؤال الثاني:

أ- صنفى الامراض التالية الى امراض معدية وامراض غير معدية:



القدم الرياضي

مرض.....



الكوليرا

مرض.....



فايروس كورونا

مرض.....



السمنة

مرض.....

ب- صنفى المجموعات الغذائية التالية:

(الكربوهيدرات - البروتينات - الدهون - الفيتامينات)



.....



.....



.....





.....

ج- أكمل الفراغات التالية:

يمثل الشكل التالي:

.....



.....

السؤال الثالث:

أ- ضعي المصطلحات التالية في مكانها المناسب:

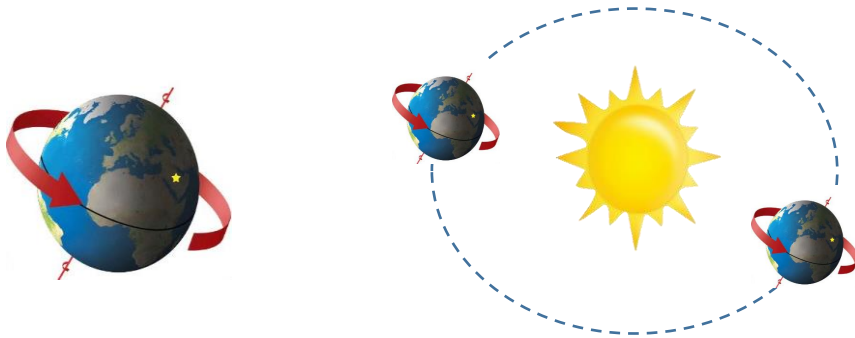
(النجم - الصحة - المعدن - المرض)

- ١- (.....) حالة غير طبيعية تؤثر على جسم المخلوق الحي.
 ٢- (.....) مادة طبيعية غير حية تشكل الصخور.
 ٣- (.....) كرة من الغازات الساخنة ينبعث منها الضوء والحرارة.
 ٤- (.....) هي اكتمال السلامة جسدياً وعقلياً ونفسياً

ب- ضعي علامة (✓) او (✗) امام العبارات التالية:

١	من العادات الصحية الإكثار من تناول السكريات.
٢	في النظام الشمسي خمسة كواكب.
٣	الصخور النارية تتكون من صخور أخرى بفعل الضغط والحرارة.
٤	المريخ له اقصر مدار حول الشمس.
٥	الامراض الغير معدية تنتقل من مخلوق الى اخر.
٦	القمر ليس له غلاف جوي.
٧	البئر ثقب يُحفر في الأرض للوصول الى المياه الجوفية.
٨	عند تناول كمية متنوعة ومناسبة من الأطعمة يومياً فان الغذاء يصبح متوازناً
٩	الفيروسات مخلوقات مجهرية ضارة بجميع أنواعها.
١٠	الري هو عملية توصيل الماء الى التربة الزراعية.

ج: أكمل الفراغات التالية:



دورة الأرض.....

تستغرق.....

ينتج عنها.....

دورة الأرض.....

تستغرق.....

ينتج عنها.....

انتهت الاسئلة

دعواتي لكن بالتوفيق والنجاح

العلمة: أمل الزهراني

الصف: رابع ابتدائي
اليوم:
التاريخ: / / ١٤٤٤ هـ
الزمن: ساعة ونصف فقط



المملكة العربية السعودية
وزارة التعليم
إدارة تعليم منطقة تبوك

اختبار نهاية الفصل الدراسي الثاني (الدور الأول)

مادة **العلوم** للصف الرابع ابتدائي

للعام الدراسي ١٤٤٤ هـ

اسم الطالبة :
رقم الجلوس :

رقم السؤال	الدرجة رقما	الدرجة كتابة	المصححة	المراجعة	المدققة
السؤال الأول					
السؤال الثاني					
السؤال الثالث					

درجة الاختبار النهائية : فقط لا غير من ٤٠ درجة



اعمل بجد في صمت .. ودع النجاح يحدث ضجيجاً

السؤال الأول:

أ- اختاري الإجابة الصحيحة في كلاً مما يلي:

١- درجة حرارة جسم الانسان الطبيعية هي:							
أ	٣٩	ب	٣٧	ج	١٧	د	٢٩
٢- المصدر الرئيسي للطاقة في اجسامنا:							
أ	الاملاح المعدنية	ب	الفيتامينات	ج	البروتينات	د	الكربوهيدرات
٣- من الخصائص التي تساعدنا على التعرف على المعادن:							
أ	الشكل	ب	الوزن	ج	الحجم	د	البريق واللمعان
٤- قدرة الجسم على التصدي لمسببات الامراض تسمى....							
أ	الفيروسات	ب	المناعة	ج	المرض	د	العدوى
٥- معظم المياه المالحة على سطح الأرض توجد في:							
أ	الانهار	ب	البرك	ج	الجليديات	د	المحيطات
٦- الخلايا التي تهاجم مسببات المرض هي:							
أ	خلايا الدم الحمراء	ب	خلايا الدم البيضاء	ج	الصفائح الدموية	د	الخلايا العصبية
٧- المشروب الذي يمد الجسم بالكالسيوم لتقوية العظام هو:							
أ	القهوة	ب	الشاي	ج	الحليب	د	مشروب غازي
٨- يستغرق حدوثها ٢٤ ساعة :							
أ	دوران الأرض حول الشمس	ب	دوران القمر حول الارض	ج	دوران الأرض حول محورها	د	دوران القمر حول نفسه
٩- تعد الكلاب والفئران والطيور والبعوض نواقل:							
أ	صناعية	ب	طبيعية	ج	حيوية	د	لا حيوية
١٠- أكبر الكواكب في المجموعة الشمسية:							
أ	المريخ	ب	المشتري	ج	زحل	د	عطارد

السؤال الثاني:

أ- صنفى الامراض التالية الى امراض معدية وامراض غير معدية:



القدم الرياضي
مرض.....**معدي**...



الكوليرا
مرض.....**معدي**...



فايروس كورونا
مرض.....**معدي**..



السننة
مرض.....**غير معدي**

ب- صنفى المجموعات الغذائية التالية:

(الكربوهيدرات - البروتينات - الدهون - الفيتامينات)



الفيتامينات



الدهون





البروتينات



الكربوهيدرات

ج- أكمل الفراغات التالية:

يمثل الشكل التالي:

.....**كسوف الشمس**..........**خسوف القمر**.....

السؤال الثالث:

أ- ضعي المصطلحات التالية في مكانها المناسب:

(النجم - الصحة - المعدن - المرض)

١- (...المرض...) حالة غير طبيعية تؤثر على جسم المخلوق الحي.

٢- (...المعدن...) مادة طبيعية غير حية تشكل الصخور.

٣- (...النجم...) كرة من الغازات الساخنة ينبعث منها الضوء والحرارة.

٤- (...الصحة...) هي اكتمال السلامة جسدياً وعقلياً ونفسياً

ب- ضعي علامة (✓) او (✗) امام العبارات التالية:

✗	١	من العادات الصحية الإكثار من تناول السكريات.
✗	٢	في النظام الشمسي خمسة كواكب.
✗	٣	الصخور النارية تتكون من صخور أخرى بفعل الضغط والحرارة.
✗	٤	المريخ له اقصر مدار حول الشمس.
✗	٥	الامراض الغير معدية تنتقل من مخلوق الى اخر.
✓	٦	القمر ليس له غلاف جوي.
✓	٧	البئر ثقب يُحفر في الأرض للوصول الى المياه الجوفية.
✓	٨	عند تناول كمية متنوعة ومناسبة من الأطعمة يومياً فان الغذاء يصبح متوازناً
✓	٩	الفيروسات مخلوقات مجهرية ضارة بجميع أنواعها.
✓	١٠	الري هو عملية توصيل الماء الى التربة الزراعية.

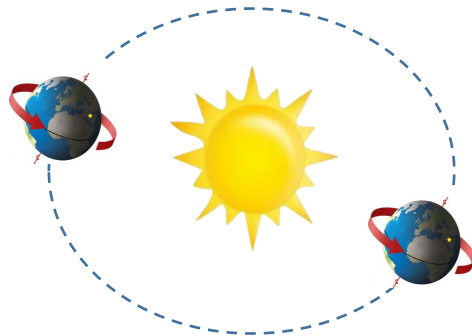
ج: أكمل الفراغات التالية:



دورة الأرض...اليومية..

تستغرق ٢٤ ساعة

ينتج عنها... تعاقب الليل والنهار



دورة الأرض...السنوية

تستغرق سنة كاملة

ينتج عنها... الفصول الاربعة

انتهت الاسئلة

دعواتي لكن بالتوفيق والنجاح

العلمة: أمل الزهراني

المادة: علوم	 <p>رؤية 2030 وزارة التعليم</p> <p>أسئلة الاختبار النهائي (الفصل الدراسي الثاني) للعام الدراسي ١٤٤٤هـ</p>	المملكة العربية السعودية.
الصف: رابع الابتدائي		وزارة التعليم.
التاريخ: / / ١٤٤٤هـ		إدارة تعليم
اليوم:		مكتب تعليم
عدد الصفحات: ٣		مدرسة
الزمن: ساعة ونصف.		
اسم الطالب:		رقم الجلوس:

رقم السؤال	الدرجة التي حصلت عليها الطالبة		المصححة	المراجعة	المدققة
	رقمًا	كتابة			
الأول		فقط لا غير			
الثاني		فقط لا غير			
الثالث		فقط لا غير			
الرابع		فقط لا غير			
المجموع		فقط لا غير			


♥ السؤال الأول: (أ) أمامك مجموعة من المصطلحات ضعها في مكانها المناسب:

١٠

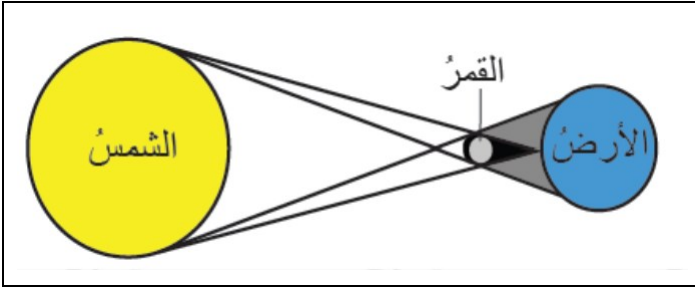
(الصحة - البئر - المرض - المعدن - الكوكب)

.....	١. حالة غير طبيعية تؤثر على جسم المخلوق الحي.
.....	٢. هي حالة اكتمال السلامة جسديًا وعقليًا ونفسيًا.
.....	٣. مادة طبيعية غير حية صلبة، توجد في قشرة الأرض.
.....	٤. حفرة في باطن الأرض تصل إلى المياه الجوفية.
.....	٥. جرم كروي كبير يدور حول الشمس.

♥ (ب) صنفى الأمراض إلى (معدي أو غير معدي): -

		
مرض	مرض	مرض

♥ (ج) أجب عن الأسئلة التالية: -



١- ما اسم الظاهرة الكونية التي أمامك؟

.....

٢- ما سبب حدوث هذه الظاهرة؟

.....

١٠

السؤال الثاني: اختاري الإجابة الصحيحة لكل فقرة من الفقرات التالية؟

١	الخلايا المسؤولة عن حماية الجسم ومحاربة الأمراض والجراثيم هي خلايا		
	البلازما	الدم الحمراء	الدم البيضاء
٢	درجة حرارة جسم الإنسان الطبيعية هي:		
	٤٠° س	٢٨° س	٣٧° س
٣	من طرق انتقال العدوى؟		
	غسل اليدين	لبس الكمامة	السعال
٤	من العادات الغير صحية؟		
	الإكثار من شرب الماء	النوم المبكر	تناول الحلويات
٥	اللون والبريق والقساوة من الخصائص التي تميز؟		
	الأحافير	المعدن	التربة
٦	أي المعادن التالية أكثر ليونة وطراوة؟		
	الكوارتز	التلك	الألماس
٧	أكبر الكواكب في المجموعة الشمسية؟		
	عطارد	المشتري	الأرض
٨	كرة من الغازات الساخنة ينبعث منها الضوء والحرارة؟		
	القمر	الشمس	الأرض
٩	تتكون المناعة عن طريق أخذ التطعيم أو اللقاحات.		
	الآلية	الاصطناعية	الطبيعية
١٠	معظم المياه المالحة على سطح الأرض توجد في		
	الأنهار	البحار	الجليديات

اقلبي الصفحة

السؤال الثالث: (أ) ضع علامة (✓) أمام العبارة الصحيحة و (X) أمام العبارة الخاطئة:

١٠

()	١. الري هو عملية توصيل الماء إلى التربة الزراعية
()	٢. يدور القمر حول الأرض دورة كاملة في ٢٠ يوم.
()	٣. أقرب الكواكب إلى الشمس هو عطارد.
()	٤. الصخور النارية تتكون من صخور أخرى بفعل الضغط والحرارة.
()	٥. عدد كواكب المجموعة الشمسية ثمانية كواكب
()	٦. يكون القمر مظلم كامل في طور البدر.
()	٧. الفيروسات مخلوقات مجهرية ضارة بجميع أنواعها.
()	٨. تتكون النيازك من الصخور والجليد والغبار.

(ب) أعطي مثال واحد لكل مما يلي:

- ١- من النواقل الحيوية:
- ٢- مصادر المياه العذبة:

السؤال الرابع: (أ) اختاري الرقم الصحيح للعمود ب من العمود أ:

١٠

(ب)	الرقم	(أ)
يشكل ثلثي جسم الإنسان ويساعد على الهضم.		١. الكربوهيدرات
تساعد الجسم على النمو وتعويض الخلايا التالفة.		٢. الدهون
تعطي الجسم الدفء وتخزن الفيتامينات.		٣. البروتينات
المصدر الرئيسي للطاقة في أجسامنا.		٤. الماء

(ب) أكمل الجدول حسب المطلوب منك:

	
▪ دورة الأرض حول	▪ دورة الأرض حول
▪ تستغرق في الدوران مدة	▪ تستغرق في الدوران مدة
▪ ينتج عن الدوران	▪ ينتج عن الدوران

انتهت الأسئلة والله الحمد
دعواتي لكم بالتوفيق والنجاح
معلمة المارة:

المادة: علوم	 <p>رؤية VISION 2030 وزارة التعليم</p> <p>أسئلة الاختبار النهائي (الفصل الدراسي الثاني) للعام الدراسي ١٤٤٤هـ</p>	المملكة العربية السعودية.
الصف: رابع الابتدائي		وزارة التعليم.
التاريخ: / / ١٤٤٤هـ		إدارة تعليم
اليوم:		مكتب تعليم
عدد الصفحات: ٣		مدرسة
الزمن: ساعة ونصف.		
https://t.me/Sciences_203 قناتي		اسم الطالب: نموذج الإجابة رقم الجلوس: :

المدققة	المراجعة	المصححة	الدرجة التي حصلت عليها الطالبة		رقم السؤال
			رقمًا	كتابة	
			فقط لا غير	١٠	الأول
			فقط لا غير	١٠	الثاني
			فقط لا غير	١٠	الثالث
			فقط لا غير	١٠	الرابع
			فقط لا غير	٤٠	المجموع

♥ السؤال الأول: (أ) أمامك مجموعة من المصطلحات ضعها في مكانها المناسب:

١٠

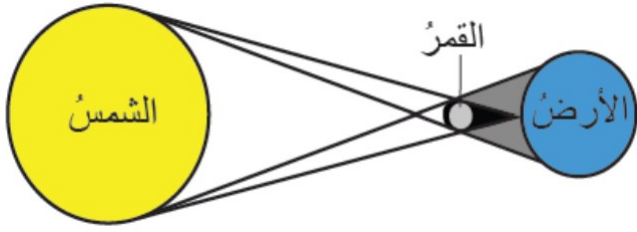
(الصحة - البئر - المرض - المعدن - الكوكب)

المرض	١. حالة غير طبيعية تؤثر على جسم المخلوق الحي.
الصحة	٢. هي حالة اكتمال السلامة جسدياً وعقلياً ونفسياً.
المعدن	٣. مادة طبيعية غير حية صلبة، توجد في قشرة الأرض.
البئر	٤. حفرة في باطن الأرض تصل إلى المياه الجوفية.
الكوكب	٥. جرم كروي كبير يدور حول الشمس.

♥ (ب) صنفى الأمراض إلى (معدي أو غير معدي): -

		
مرض غير معدي	مرض معدي	مرض معدي

♥ (ج) أجب عن الأسئلة التالية: -



١- ما اسم الظاهرة الكونية التي أمامك؟

ظاهرة كسوف الشمس

٢- ما سبب حدوث هذه الظاهرة؟

بسبب وقوع القمر بين الشمس والأرض.

١٠

السؤال الثاني: اختاري الإجابة الصحيحة لكل فقرة من الفقرات التالية؟

١	الخلايا المسؤولة عن حماية الجسم ومحاربة الأمراض والجراثيم هي خلايا	الدم البيضاء	الدم الحمراء	البلازما
٢	درجة حرارة جسم الإنسان الطبيعية هي:	٣٧° س	٢٨° س	٤٠° س
٣	من طرق انتقال العدوى؟	السعال	لبس الكمامة	غسل اليدين
٤	من العادات الغير صحية؟	تناول الحلويات	النوم المبكر	الإكثار من شرب الماء
٥	اللون والبريق والقساوة من الخصائص التي تميز؟	التربة	المعدن	الأحافير
٦	أي المعادن التالية أكثر ليونة وطراوة؟	الألماس	التلك	الكوارتز
٧	أكبر الكواكب في المجموعة الشمسية؟	الأرض	المشتري	عطارد
٨	كرة من الغازات الساخنة ينبعث منها الضوء والحرارة؟	الأرض	الشمس	القمر
٩	تتكون المناعة عن طريق أخذ التطعيم أو اللقاحات.	الطبيعية	الاصطناعية	الآلية
١٠	معظم المياه المالحة على سطح الأرض توجد في	الجليديات	البحار	الأنهار

اقلبي الصفحة

♥ السؤال الثالث: (أ) ضع علامة (✓) أمام العبارة الصحيحة و (X) أمام العبارة الخاطئة:

١٠

(✓)	١. الري هو عملية توصيل الماء إلى التربة الزراعية
(X)	٢. يدور القمر حول الأرض دورة كاملة في ٢٠ يوم.
(✓)	٣. أقرب الكواكب إلى الشمس هو عطارد.
(X)	٤. الصخور النارية تتكون من صخور أخرى بفعل الضغط والحرارة.
(✓)	٥. عدد كواكب المجموعة الشمسية ثمانية كواكب
(X)	٦. يكون القمر مظلم كامل في طور البدر.
(✓)	٧. الفيروسات مخلوقات مجهرية ضارة بجميع أنواعها.
(X)	٨. تتكون النيازك من الصخور والجليد والغبار.

♥ (ب) أعطى مثال واحد لكل مما يلي:

١- من النواقل الحيوية: الكلاب ، الفئران ، الطيور ، البعوض ، الذباب

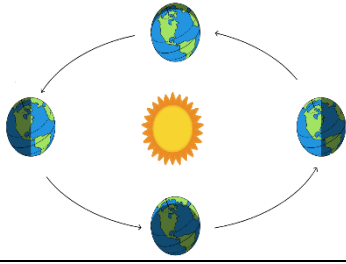
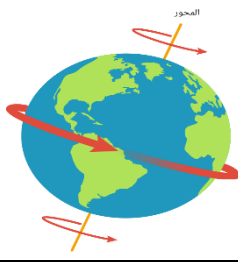
٢- مصادر المياه العذبة: البرك ، الأنهار ، الجداول ، الآبار ، المياه الجوفية ، القمم الجليدية.

♥ السؤال الرابع: (أ) اختاري الرقم الصحيح للعمود ب من العمود أ :

١٠

(ب)	الرقم	(أ)
يشكل تُثني جسم الإنسان ويساعد على الهضم.	٤	١. الكربوهيدرات
تساعد الجسم على النمو وتعويض الخلايا التالفة.	٣	٢. الدهون
تعطي الجسم الدفء وتخزن الفيتامينات.	٢	٣. البروتينات
المصدر الرئيسي للطاقة في أجسامنا.	١	٤. الماء

♥ (ب) أكمل الجدول حسب المطلوب منك:

	
▪ دورة الأرض حول الشمس	▪ دورة الأرض حول محورها
▪ تستغرق في الدوران مدة ٣٦٥, ٢٥ يوم أو سنة ميلادية كاملة.	▪ تستغرق في الدوران مدة ٢٤ ساعة أو يوم كامل
▪ ينتج عن الدوران الفصول الأربعة	▪ ينتج عن الدوران الليل والنهار

انتهت الأسئلة والله الحمد
دعواتي لكم بالتوفيق والنجاح
معلمة المارة: