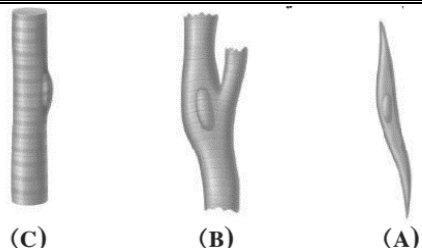
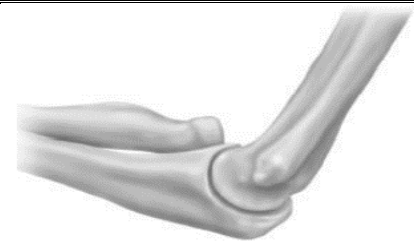
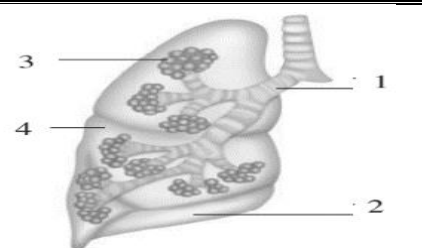
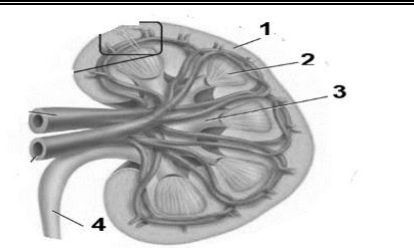
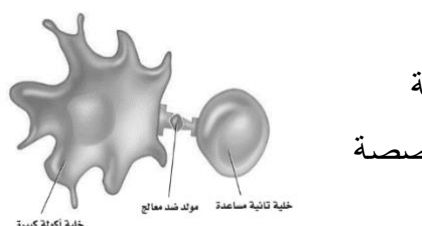
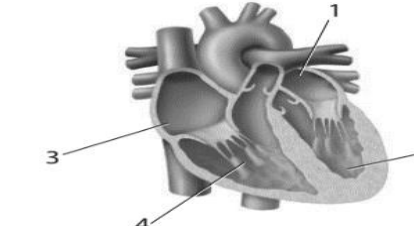
 وزارة التعليم Ministry of Education	المملكة العربية السعودية وزارة التعليم إدارة التعليم بمحافظة .....	ثانوية .....	المدرسة
		الثاني	الفصل الدراسي
50 دقيقة	الزمن	ثاني / عام	الصف
أسئلة الاختبار النهائي لمقرر أحياء 2 - 2 لعام 1444هـ (عملي) (نموذج 1)			

اسم الطالبة	الصف	رقم الجلوس
-------------	------	------------


السؤال	السؤال الأول	السؤال الثاني	المجموع	المصححة	المراجعة	المدققة
الدرجة						

	<b>السؤال الأول</b> أ/ارسمي رسما تخطيطيا لجناح الدجاجة ب/ وضحني على الرسم كيف ترتبط العظام معا
--	--

<b>السؤال الثاني:</b> اختاري الإجابة الصحيحة في كل مما يلي:
---

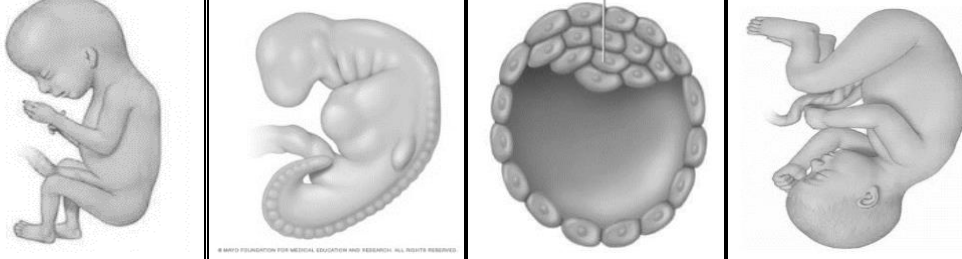
1	ما نوع المفصل في الشكل التالي	2	صنفي : أي العضلات التالية تصف بانها قلبية		
a	الكروي	a	A		
b	المنزلق	b	B		
c	الرزبي	c	C		
d	المحوري	d	A و C		
3	ما الجزء المشار لها بالرقم 1 في الصورة	4	في أي جزء يتم تبادل الغازات بين الرئة والدم		
a	قشرة الكلية	a	1		
b	نخاع الكلية	b	2		
c	حوض الكلية	c	3		
d	الحالب	d	4		
5	الرقم الذي يشير للأذين الأيمن	6	ما نوع الاستجابة المناعية في الشكل		
a	1	a	جينية		
b	2	b	متخصصة		
c	3	c	غير متخصصة		
d	4	d	هرمونية		

انتهت الأسئلة مع خالص دعواتنا لك بالتوفيق .... معلمتك: أ/

 وزارة التعليم Ministry of Education	المملكة العربية السعودية وزارة التعليم إدارة التعليم بمحافظة .....	ثانوية .....	المدرسة
		الثاني	الفصل الدراسي
50 دقيقة	الزمن	ثاني / عام	الصف
أسئلة الاختبار النهائي لمقرر أحياء 2 - 2 لعام 1444هـ (عملي) (نموذج 2)			

اسم الطالبة	الصف	رقم الجلوس
-------------	------	------------


السؤال	السؤال الأول	السؤال الثاني	المجموع	المصححة	المراجعة	المدققة
الدرجة						

	<b>السؤال الأول</b> حديدي لاي مرحلة من مراحل النمو الجنيني تنتمي الصور التالية: البلاستيولة الثلاث الشهور الأولى - الثلاث الشهور الثانية - الثلاث الشهور الثالثة
--	--

<b>السؤال الثاني:</b> اختاري الإجابة الصحيحة في كل مما يلي:	
---	--

1	ما نوع المفصل في الشكل التالي	2	أي العضلات التالية تصف بانها قلبية
a	الكروي	a	A
b	المنزلق	b	B
c	الرزبي	c	C
d	المحوري	d	C و A
3	ما الجزء المشار لها بالرقم 1 في الصورة	4	في أي جزء يتم تبادل الغازات بين الرئة والدم
a	قشرة الكلية	a	1
b	نخاع الكلية	b	2
c	حوض الكلية	c	3
d	الحالب	d	4
5	الرقم الذي يشير للأذين الأيمن	6	ما نوع الاستجابة المناعية في الشكل
a	1	a	جنينية
b	2	b	متخصصة
c	3	c	غير متخصصة
d	4	d	هرمونية

انتهت الأسئلة مع خالص دعواتنا لك بالتوفيق .... معلمتك: أ/

 وزارة التعليم Ministry of Education	المملكة العربية السعودية وزارة التعليم إدارة التعليم بمحافظة .....	ثانوية .....	المدرسة
		الثاني	الفصل الدراسي
50 دقيقة	الزمن	ثاني / عام	الصف
أسئلة الاختبار النهائي لمقرر أحياء 2 - 2 لعام 1444هـ (عملي) (نموذج 3)			

اسم الطالبة	الصف	رقم الجلوس
-------------	------	------------


السؤال	السؤال الأول	السؤال الثاني	المجموع	المصححة	المراجعة	المدققة
الدرجة						

<b>السؤال الأول</b> أ/ارسمي رسما مبسطا يوضح مراحل تكوين الحيوان المنوي
---

<b>السؤال الثاني:</b> اختاري الإجابة الصحيحة في كل مما يلي:
---

1	ما نوع المفصل في الشكل التالي	2	أي العضلات التالية تصف بانها ارادية
a	الكروي	a	A
b	المنزلق	b	B
c	الرزبي	c	C
d	المحوري	d	C و B
3	ما الجزء المشار لها بالرقم 2 في الصورة	4	في أي جزء يتم تبادل الغازات بين الرئة والدم
a	قشرة الكلية	a	1
b	نخاع الكلية	b	2
c	حوض الكلية	c	3
d	الحالب	d	4
5	الرقم الذي يشير للبطين الأيمن	6	ما نوع الاستجابة المناعية في الشكل
a	1	a	جينية
b	2	b	متخصصة
c	3	c	غير متخصصة
d	4	d	هرمونية

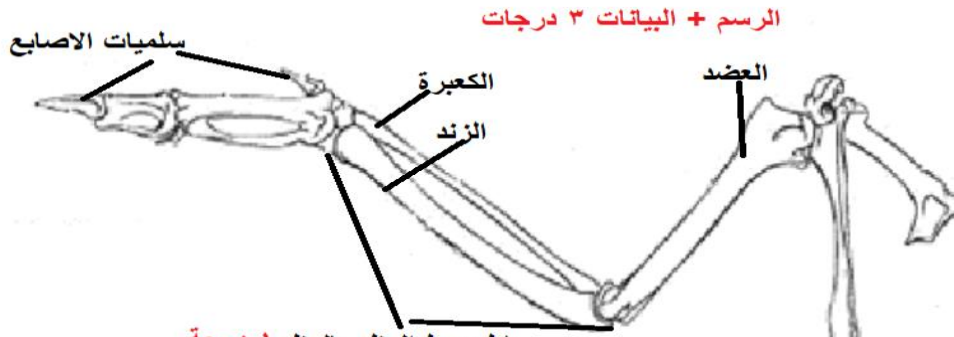
انتهت الأسئلة مع خالص دعواتنا لك بالتوفيق .... معلمتك: أ/

 وزارة التعليم Ministry of Education	المملكة العربية السعودية وزارة التعليم إدارة التعليم بمحافظة .....	ثانوية .....	المدرسة
		الثاني	الفصل الدراسي
50 دقيقة	الزمن	ثاني / عام	الصف
أسئلة الاختبار النهائي لمقرر أحياء 2 - 2 لعام 1444هـ (عملي) (نموذج 1)			

اسم الطالبة	الصف	رقم الجلوس
-------------	------	------------

السؤال	السؤال الأول	السؤال الثاني	المجموع	المصححة	المراجعة	المدققة
الدرجة	4	6	10			

**الرسم + البيانات 3 درجات**




**السؤال الأول**

أ/ ارسمي رسماً تخطيطياً  
 لجناح الدجاجة  
 ب/ وضحني على الرسم  
 كيف ترتبط العظام معاً

**السؤال الثاني: اختاري الإجابة الصحيحة في كل مما يلي:**



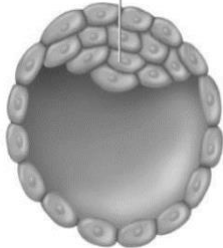

1	ما نوع المفصل في الشكل التالي	2	صنفي : أي العضلات التالية تصف بانها قلبية
a	الكروي	a	A
b	المنزلق	b	<b>1</b> B
c	<b>1</b> الرزي	c	C
d	المحوري	d	C و A
3	ما الجزء المشار لها بالرقم 1 في الصورة	4	في أي جزء يتم تبادل الغازات بين الرئة والدم
a	<b>1</b> قشرة الكلية	a	1
b	نخاع الكلية	b	2
c	حوض الكلية	c	<b>1</b> 3
d	الحالب	d	4
5	الرقم الذي يشير للأذين الأيمن	6	ما نوع الاستجابة المناعية في الشكل
a	1	a	جينية
b	2	b	<b>1</b> متخصصة
c	<b>1</b> 3	c	غير متخصصة
d	4	d	هرمونية

انتهت الأسئلة مع خالص دعواتنا لك بالتوفيق .... معلمتك: أ/

 وزارة التعليم Ministry of Education	المملكة العربية السعودية وزارة التعليم إدارة التعليم بمحافظة .....	ثانوية .....	المدرسة
		الثاني	الفصل الدراسي
50 دقيقة	الزمن	ثاني / عام	الصف
أسئلة الاختبار النهائي لمقرر أحياء 2 - 2 لعام 1444هـ (عملي) (نموذج 2)			

اسم الطالبة	الصف	رقم الجلوس	2/ع/...
-------------	------	------------	---------


السؤال	السؤال الأول	السؤال الثاني	المجموع	المصححة	المراجعة	المدققة
الدرجة	4	6	10			

 الثلاث الشهور الثانية 1	 الثلاث الشهور الأولى 1	 البلاستيولة 1	 الثلاث الشهور الثالثة 1	<b>السؤال الأول</b> حديدي لاي مرحلة من مراحل النمو الجنيني تنتمي الصور التالية: البلاستيولة الثلاث الشهور الأولى - الثلاث الشهور الثانية - الثلاث الشهور الثالثة
---	--	--	--	--

<b>السؤال الثاني:</b> اختاري الإجابة الصحيحة في كل مما يلي:			
---	--	--	--

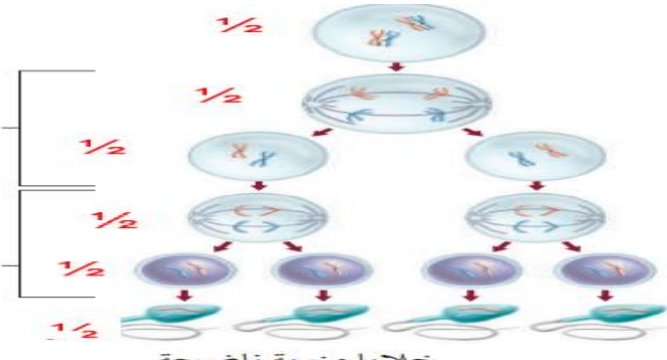
1	ما نوع المفصل في الشكل التالي	2	أي العضلات التالية تصف بانها لا ارادية
a	الكروي	a	A
b	المنزلق 1	b	B
c	الرزبي	c	C
d	المحوري	d	A و b 1
3	ما الجزء المشار لها بالرقم 2 في الصورة	4	في أي جزء يتم تبادل الغازات بين الرئة والدم
a	قشرة الكلية	a	1
b	نخاع الكلية 1	b	2
c	حوض الكلية	c	3 1
d	الحالب	d	4
5	الرقم الذي يشير للأذين الأيسر	6	ما نوع الاستجابة المناعية في الشكل
a	1 1	a	جنينية
b	2	b	متخصصة 1
c	3	c	غير متخصصة
d	4	d	هرمونية

انتهت الأسئلة مع خالص دعواتنا لك بالتوفيق .... معلمتك: أ/

 وزارة التعليم Ministry of Education	المملكة العربية السعودية وزارة التعليم إدارة التعليم بمحافظة .....	ثانوية .....	المدرسة
		الثاني	الفصل الدراسي
الزمن	50 دقيقة	ثاني / عام	الصف
أسئلة الاختبار النهائي لمقرر أحياء 2 - 2 لعام 1444هـ (عملي) (نموذج 3)			

اسم الطالبة	الصف	رقم الجلوس
-------------	------	------------

السؤال	السؤال الأول	السؤال الثاني	المجموع	المصححة	المراجعة	المدققة
الدرجة	4	6	10			



خلايا منوية ناضجة

**السؤال الأول**  
أ/ارسمي رسما مبسطا يوضح مراحل تكوين الحيوان المنوي

**السؤال الثاني:** اختاري الإجابة الصحيحة في كل مما يلي:


1	ما نوع المفصل في الشكل التالي	2	أي العضلات التالية تصف بانها ارادية
a	الكروي <b>1</b>	a	A
b	المنزلق	b	B
c	الرزبي	c	<b>1</b> C
d	المحوري	d	C و B
3	ما الجزء المشار لها بالرقم 3 في الصورة	4	في أي جزء يتم تبادل الغازات بين الرئة والدم
a	قشرة الكلية	a	1
b	نخاع الكلية	b	2
c	حوض الكلية <b>1</b>	c	<b>1</b> 3
d	الحالب	d	4
5	الرقم الذي يشير للبطين الأيسر	6	ما نوع الاستجابة المناعية في الشكل
a	1	a	جينية
b	<b>1</b> 2	b	متخصصة <b>1</b>
c	3	c	غير متخصصة
d	4	d	هرمونية

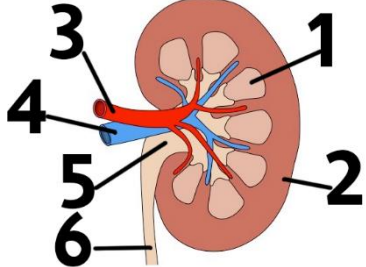
انتهت الأسئلة مع خالص دعواتنا لك بالتوفيق .... معلمتك: أ/

اختبار عملي لمقرر أحياء ٢-٢  
زمن الاختبار: ٥٠ دقيقة  
الفصل الدراسي الثاني  
للعام الدراسي ١٤٤٤ هـ

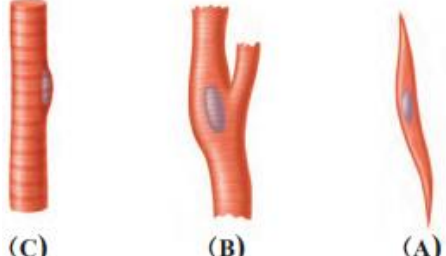
اسم الطالبة	رقم الجلوس	الشعبة
-------------	------------	--------

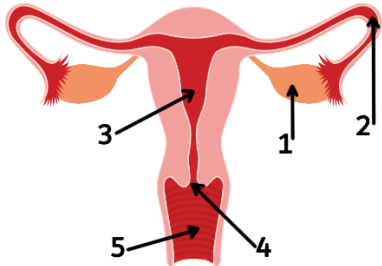
درجات فقط	١٠	أجب على الأسئلة التالية على حسب الشكل المجاور لها.
-----------	----	--

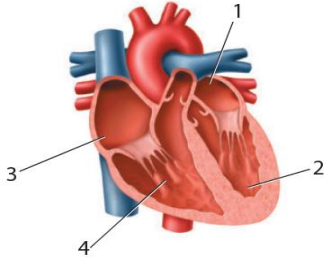
	١ ما هو نوع المفصل الموجود في الصورة؟ .....
	- ما لون نهايات العظام في المفصل المتحرك .....

	٢ الي أي جهاز ينتمي هذا العضو ..... والرقم ٦ يشير ..... .....
--	---

٣ استقص رد الفعل المنعكس لرمش العين فسري سبب اختلاف ردة الفعل للشخص في كل مره ؟ .....
---

	٤ أي العضلات ارادية ..... وكيف تربط العضلات مع العظام .....
---	--

	٥ ما هو التركيب المشار له بالرقم ١؟ ..... ينمو فيه الجنين حتى ولادته رقم .....
---	---



اسم العضو ؟ .....

٦

ما هو اسم الحجرة المشار لها برقم ٤

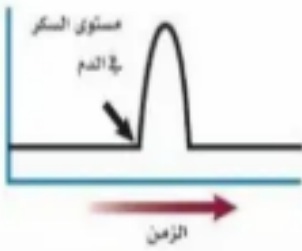
.....

من تجربة : كيف يساعد انزيم الببسين في عملية الهضم ؟

٧

صف دور كل من الببسين والرقم الهيدروجيني في هضم البروتينات ؟

.....



يوضح الرسم البياني مستوى السكر في الدم لفترة من الزمن ,

ما هو الهرمون الذي قد يسبب الارتفاع المفاجئ المشار اليه

بالسهم .....

٨

وماهي الغدة المفرزة له .....

من تجربة : هل يمكن مشاهدة اثار التعرض للكحول

٩

ما العواقب التي تنتج عن شرب الكحول مستقبلا ؟

.....

اجيبي عن الاسئلة الاتية

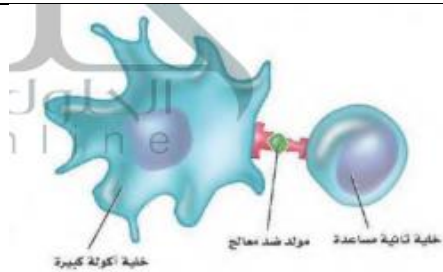
١٠

١- خلية تنشط الخلية البلازمية ( B ) والخلايا التائية القاتلة ( T )

.....

٢- ما نوع الاستجابة المناعية الممثلة في الشكل

.....



انتهت الأسئلة


معلم المادة:

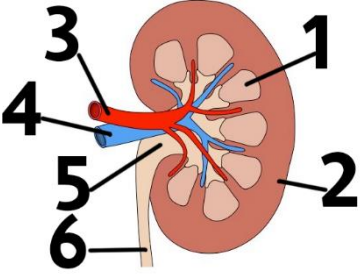


اختبار عملي لمقرر أحياء ٢-٢  
زمن الاختبار: ٥٠ دقيقة  
الفصل الدراسي الثاني  
للعام الدراسي ١٤٤٤ هـ

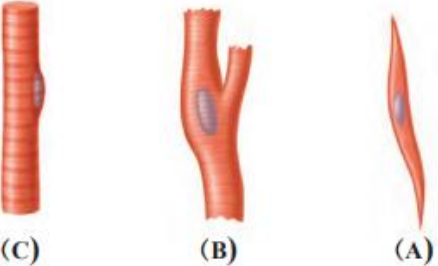
اسم الطالبة	رقم الجلوس	الشعبة
-------------	------------	--------

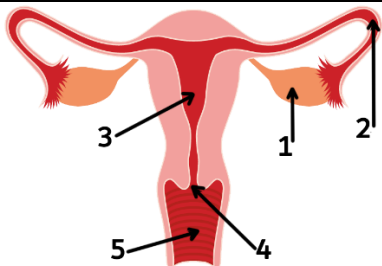
درجات فقط	١٠	أجب على الأسئلة التالية على حسب الشكل المجاور لها.
-----------	----	--

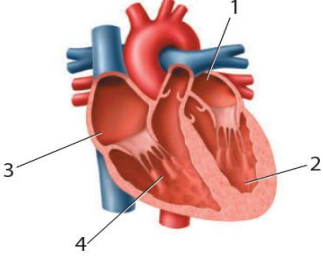
	١	ما هو نوع المفصل الموجود في الصورة؟ الرزبي 1/2
		- ما لون نهايات العظام في المفصل المتحرك لونها ابيض 1/2

	٢	الي أي جهاز ينتمي هذا العضو الجهاز الإخراجي 1/2
		والرقم ٦ يشير الحالب 1/2

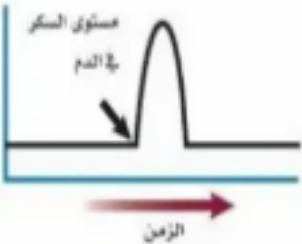
٣		استقص رد الفعل المنعكس لرمش العين
		فسري سبب اختلاف ردة الفعل للشخص في كل مره ؟ ردة الفعل المنعكس تختلف حسب نوع الحاسة وشدة المؤثر وعمر الشخص الذي يستقبل المؤثر ١

	٤	أي العضلات ارادية رقم C 1/2
		وكيف تربط العضلات مع العظام ب الاوتار 1/2

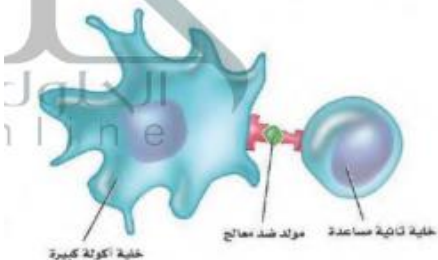
	٥	ما هو التركيب المشار له بالرقم ١؟ المبيض 1/2
		ينمو فيه الجنين حتى ولادته رقم ٣ 1/2

	اسم العضو ؟ القلب $\frac{1}{2}$	٦
	ما هو اسم الحجرة المشار لها برقم ٤ بطين ايمن $\frac{1}{2}$	

من تجربة : كيف يساعد انزيم الببسين في عملية الهضم ؟	٧
صف دور كل من الببسين والرقم الهيدروجيني في هضم البروتينات ؟ انزيم الببسين وحمض الهيدروكلوريك يهضم البروتينات في المعدة وان الببسين يسرع من عمليه هضم البروتينات ١	

	يوضح الرسم البياني مستوى السكر في الدم لفترة من الزمن , ماهو الهرمون الذي قد يسبب الارتفاع المفاجئ المشار اليه بالسهم الجلوكاجون $\frac{1}{2}$	٨
	وماهي الغدة المفرزة له البنكرياس $\frac{1}{2}$	

من تجربة : هل يمكن مشاهدة اثار التعرض للكحول	٩
ما العواقب التي تنتج عن شرب الكحول مستقبلا ؟ تلف طويل لبعض مناطق الدماغ المسؤولة عن الذاكرة ١	

	اجيبي عن الاسئلة الاتية	١٠
	١- خلية تنشط الخلية البلازمية ( B ) والخلايا التائية القاتلة ( T ) الخلية التائية المساعدة $\frac{1}{2}$ ٢- ما نوع الاستجابة المناعية الممثلة في الشكل متخصصة $\frac{1}{2}$	

انتهت الأسئلة

معلم المادة: